

DANS CE CADRE

Académie :	Session :
Examen :	Série :
Spécialité/option :	Repère de l'épreuve :
Epreuve/sous épreuve :	
NOM :	
(en majuscule, suivi s'il y a lieu, du nom d'épouse)	
Prénoms :	N° du candidat
Né(e) le :	(le numéro est celui qui figure sur la convocation ou liste d'appel)

Appréciation du correcteur

Note :

NE RIEN ÉCRIRE

Il est interdit aux candidats de signer leur composition ou d'y mettre un signe quelconque pouvant indiquer sa provenance.

Brevet blanc

Epreuve de technologie

Durée : 30 minutes

L'usage de la calculatrice est autorisé, tout autre document est interdit.

Dès que le sujet vous est remis, assurez-vous qu'il est complet.

Le sujet est composé de 5 pages

Le candidat doit répondre sur le sujet et veiller à ne pas oublier de question

Ne pas dégrafer

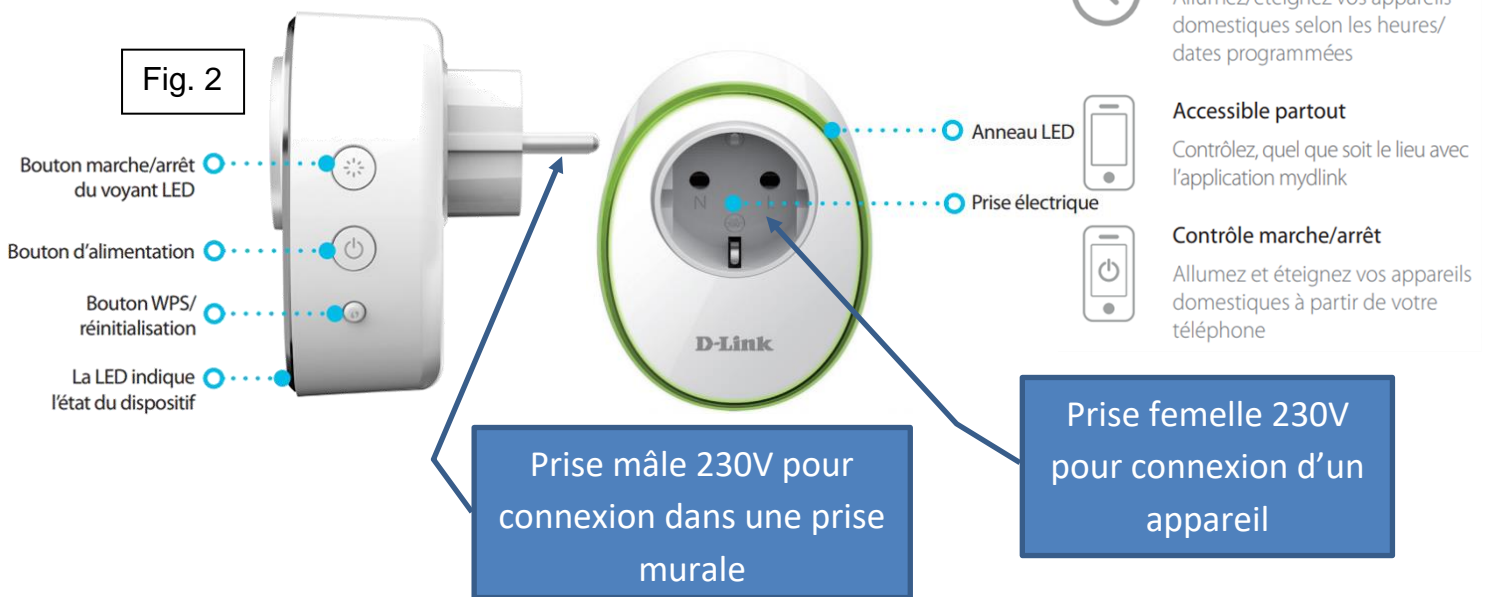
La domotique permet de simplifier les tâches dans la maison.



Avec la prise intelligente Wi-Fi, vous pouvez contrôler l'appareil électrique branché chez vous lorsque vous êtes absent. Vous avez oublié d'éteindre le fer avant de quitter la maison, ne paniquez pas, éteignez-le à distance à partir de votre smartphone. Un smartphone vous permet d'allumer ou d'éteindre à distance les appareils et de gérer vos programmations de mise en marche lorsque vous êtes en déplacement. La prise se connecte au point d'accès Wi-Fi domestique d'une simple pression sur un bouton. Il est obligatoire de disposer d'un compte personnel sur un serveur dédié sur Internet afin de pouvoir utiliser la prise connectée.

Vue latérale

Vue de face



Caractéristiques physiques	
Dimensions	• 95 x 74 x 38 mm (3,74 x 2,91 x 1,50 pouces)
Poids	• 155 grammes (5,47 onces)
Entrée d'alimentation	• Entrée : 100 à 240 VCA, 50/60 Hz
Charge maximale	• Prise Europe (type F) : 3680 W/16 A • Prise française (type E) : 3680 W/16 A
Consommation électrique	• Maximum 5 watts

Question n°1.

Voici une liste d'appareils électriques (fig. 3). On souhaite connaître quels sont les appareils qu'il sera possible de connecter sur la prise (**mettre une croix dans les bonnes cases**).

Elément à connecter	Possible	Pas possible
Radiateur de 2KW		
Climatiseur de 4250W		
Lampe de 50W		
Cafetière de 600W		
Plancha : Le thermostat réglable permet de jauger la puissance suivant le type de viande que vous aurez à griller et sa puissance peut aller de 1352W à 4KW		

/5

Question n°2.

Complète le diagramme de blocs internes (fig 4) pour la partie chaîne d'énergie et chaîne d'information.

Tu positionneras les éléments manquants suivants :

Prise 230V femelle, microcontrôleur (traiter), électronique de puissance (moduler), dans les rectangles suivants :



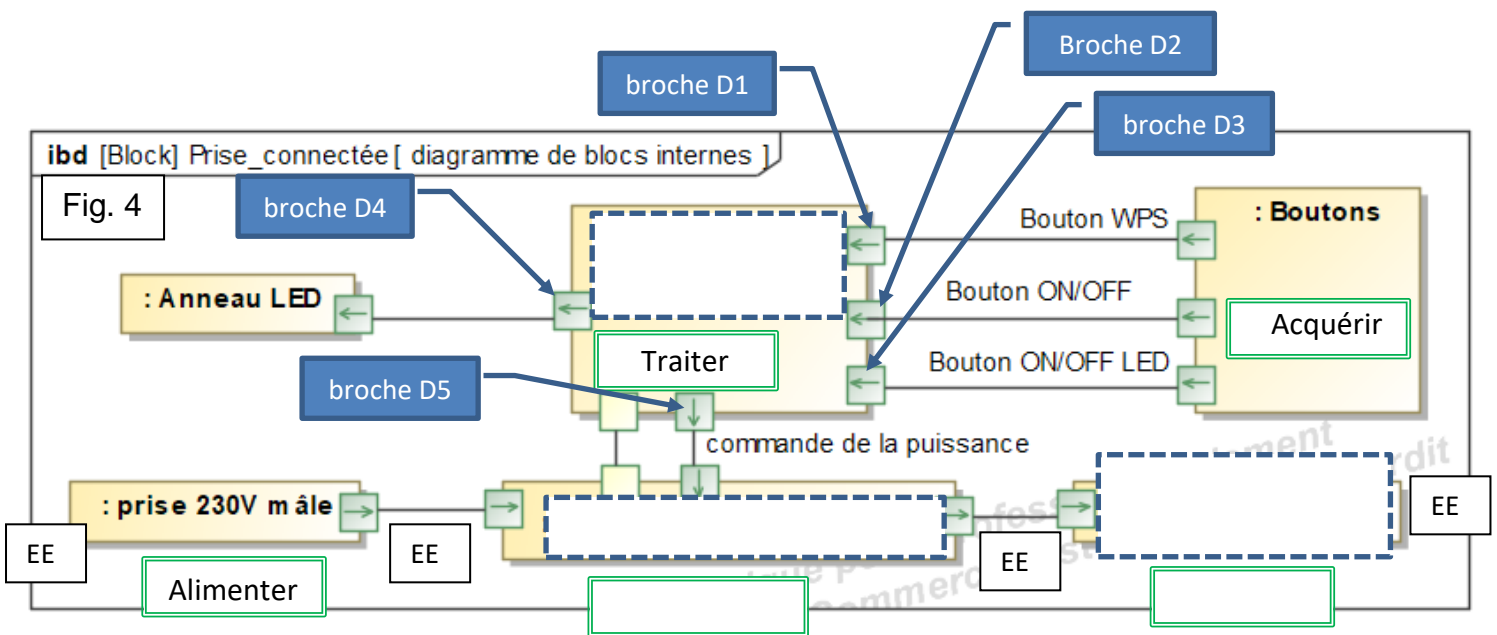
Tu positionneras les mots suivants : Moduler / Transmettre

dans les rectangles suivants :



Les différentes formes d'énergie sont indiquées entre chaque éléments (EE : énergie électrique).

Dessine avec des flèches noires par où passe l'énergie pour alimenter un appareil électrique entre les différents blocs.



/6

Question n°3.

Une amélioration a été proposée pour pouvoir commander sa lampe à partir d'un PC, comme ici, le PC0, qui ne possède qu'une prise RJ45 pour la connexion d'un câble Ethernet sur le schéma. Pour cela il suffit de lancer un navigateur sur le PC0 et de taper l'adresse IP du serveur.

a) Quelle est cette adresse IP à taper ?

.....

/1

b) Complète le schéma à l'aide des légendes en positionnant les numéros dans les cercles et en traçant les différents supports de connexion (fig. 5) du réseau pour pouvoir commander à distance une lampe à partir du smartphone et du PC0.

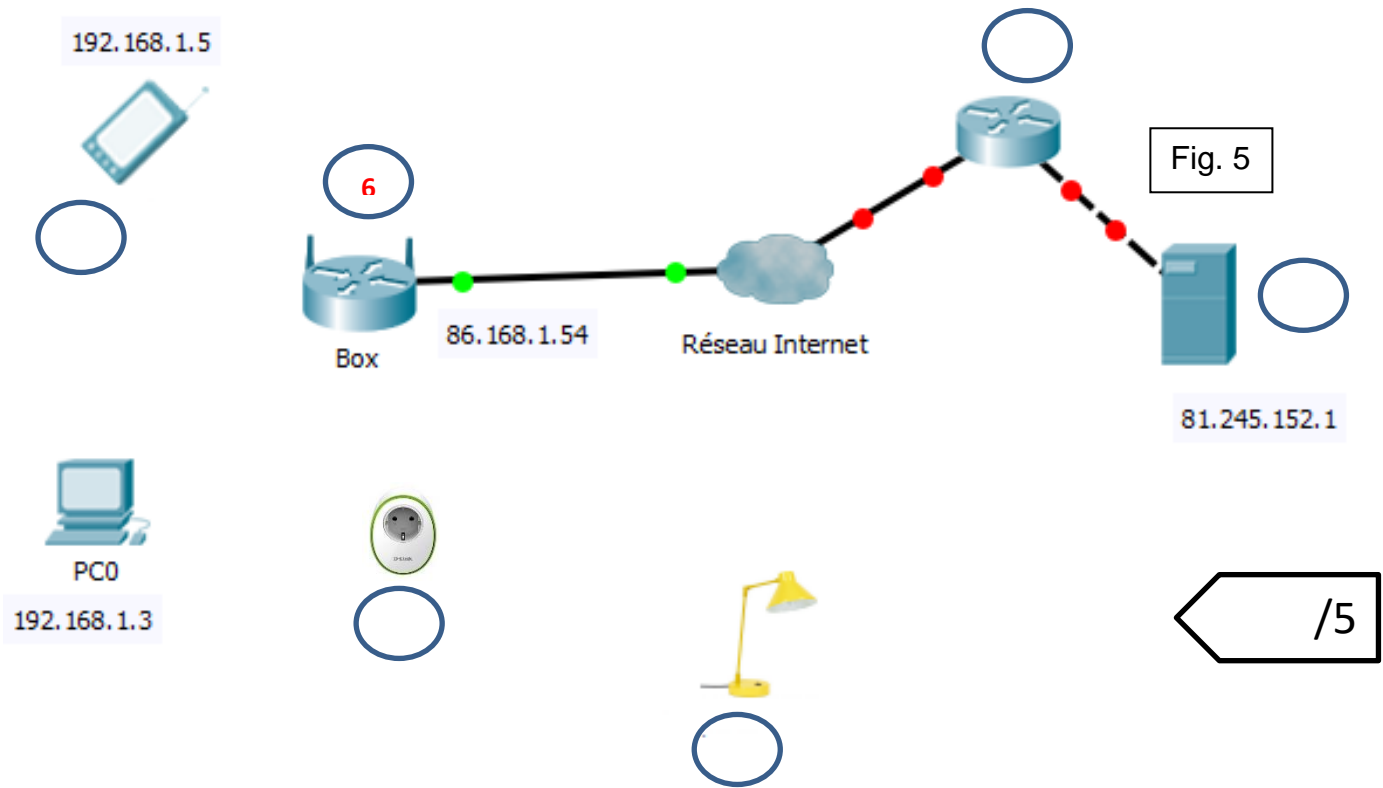
1. Prise connectée
2. Routeur (côté serveur dédié)
3. Serveur dédié de l'application
4. Smartphone
5. Lampe
6. Point d'accès Wifi + routeur = box

Positionne les numéros dans les cercles

- Support de connexion Wifi ----- (pointillés verts)
 Support de connexion câble Ethernet ——— (trait plein rouge)
 Support fil électrique 230V ——— (trait plein bleu)

Positionne les différents supports de connexion aux bons endroits

Complète la structure du réseau



/5

Complète sur le schéma à l'aide de plusieurs flèches par où passe l'information entre le client (smartphone) et la prise connectée.

Question n°4.

On souhaite programmer la lampe pour gérer son éclairage.

Au démarrage, le système va clignoter quatre fois.

Puis, tant que l'on n'appuiera pas sur le bouton ON/OFF d'alimentation, le système va vérifier qu'une commande a été reçue (commande qui a été envoyée par le client smartphone ou PC).

Il va lire la donnée reçue qui permettra de commander la prise connectée. Si la donnée reçue est un 0, il va couper l'alimentation de la prise, si la donnée reçue est un 1, alors la prise alimentera l'appareil électrique. Dès que l'on a appuyé sur ON/OFF, l'anneau LED s'éteint.

Complète le programme suivant (fig. 6) :

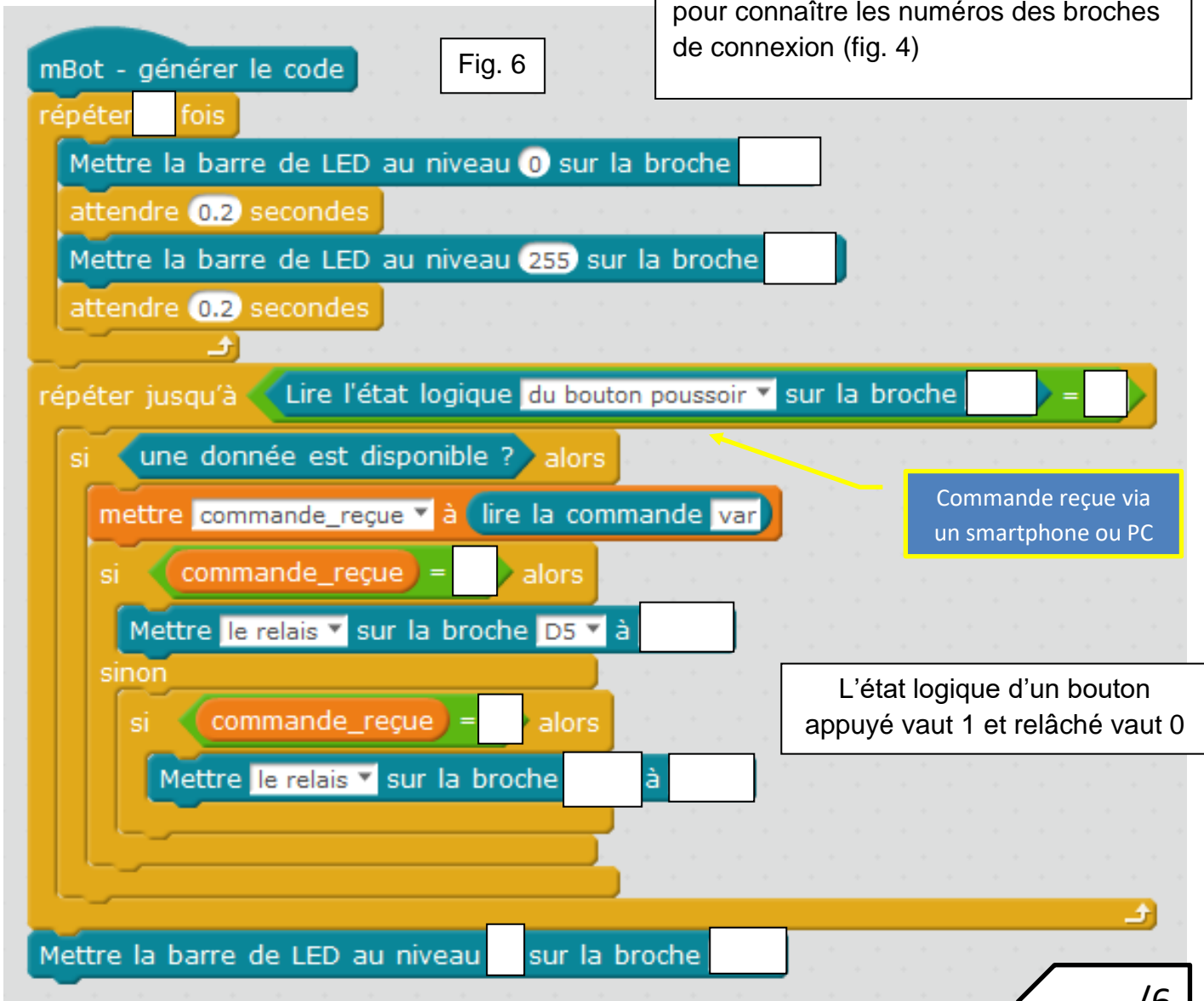
Permet d'allumer l'anneau à LED Mettre la barre de LED au niveau 255 sur la broche

Permet d'éteindre l'anneau à LED Mettre la barre de LED au niveau 0 sur la broche

Permet d'activer le 230V en sortie de prise Mettre le relais sur la broche à haut

Permet de désactiver le 230V en sortie de prise Mettre le relais sur la broche à bas

Consulte le diagramme de blocs internes pour connaître les numéros des broches de connexion (fig. 4)



/6

SOIN /2